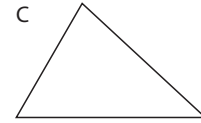
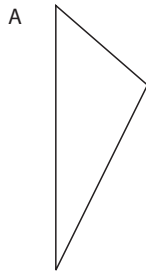


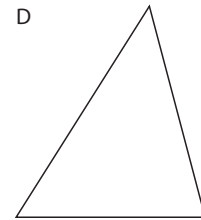
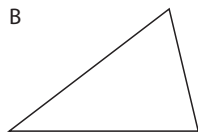
Actividades

1 Fíjate en los triángulos siguientes:



a) Traza las mediatrices en el triángulo A y señala el circuncentro.

c) Traza las alturas en el triángulo C y señala el ortocentro.



b) Traza las bisectrices en el triángulo B y señala el incentro.

d) Traza las medianas en el triángulo D y señala el baricentro.

2 Dibuja los siguientes triángulos y responde luego a las preguntas:

a) 3 cm, 4 cm y 5 cm

b) 6 cm, 5 cm y 8 cm

c) 2 cm, 8 cm y 20 cm

d) ¿Hay algún triángulo que no hayas podido dibujar? ¿Por qué?

e) Establece una norma general para que tres segmentos formen un triángulo.
