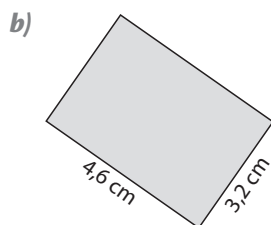
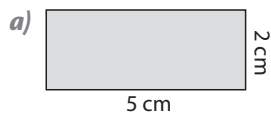
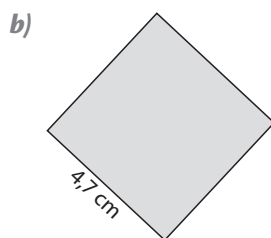
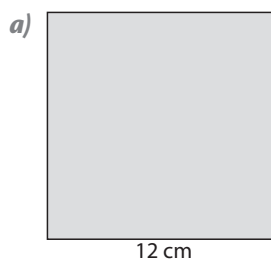


Actividades

1 Averigua el perímetro y el área de cada uno de estos rectángulos:



2 Halla los perímetros y las áreas de los siguientes cuadrados:

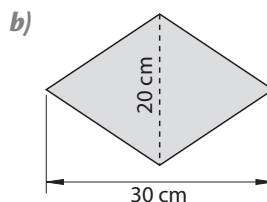
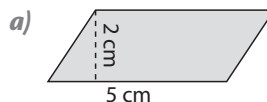


3 Determina las áreas de los triángulos:

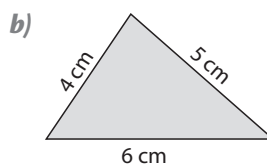
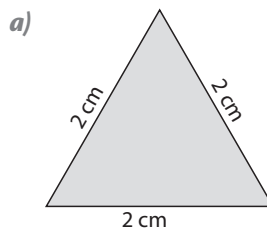
a) Base: 12 m; altura: 3 m.

b) Base: 21,5 cm; altura: 2,1 cm.

4 Calcula las áreas de los siguientes paralelogramos:



5 Establece el perímetro de estos triángulos:



6 Estima el área del siguiente rectángulo. Después toma las medidas y valora tu estimación.

