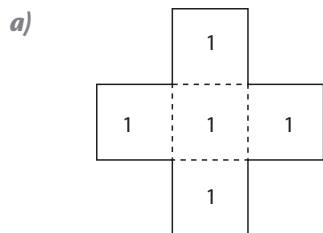
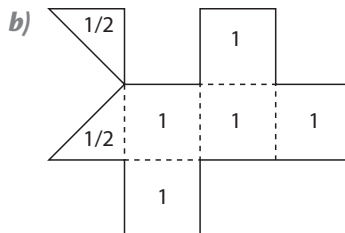


Actividades

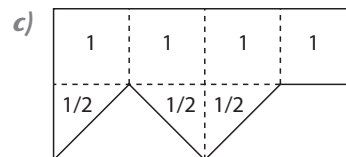
1 Calcula las áreas de estos polígonos, sabiendo que cada cuadrado tiene 1 cm de lado:



A = _____



A = _____



A = _____

2 Descompón los siguientes polígonos y calcula sus áreas:

